

ČÍM SE MĚŘIL ČAS

POZNÁŠ NĚKTERÉ Z HODIN?



PŘESÝPACÍ HODINY



NÁSTĚNNÉ HODINY



STOJACÍ HODINY



KYVADLOVÉ HODINY




STOPKY



NÁRAMKOVÉ HODINY



HODINY S KUKAČKOU



VODNÍ HODINY



DIGITÁLNÍ HODINY



SVÍČKOVÉ HODINY



SLUNEČNÍ HODINY

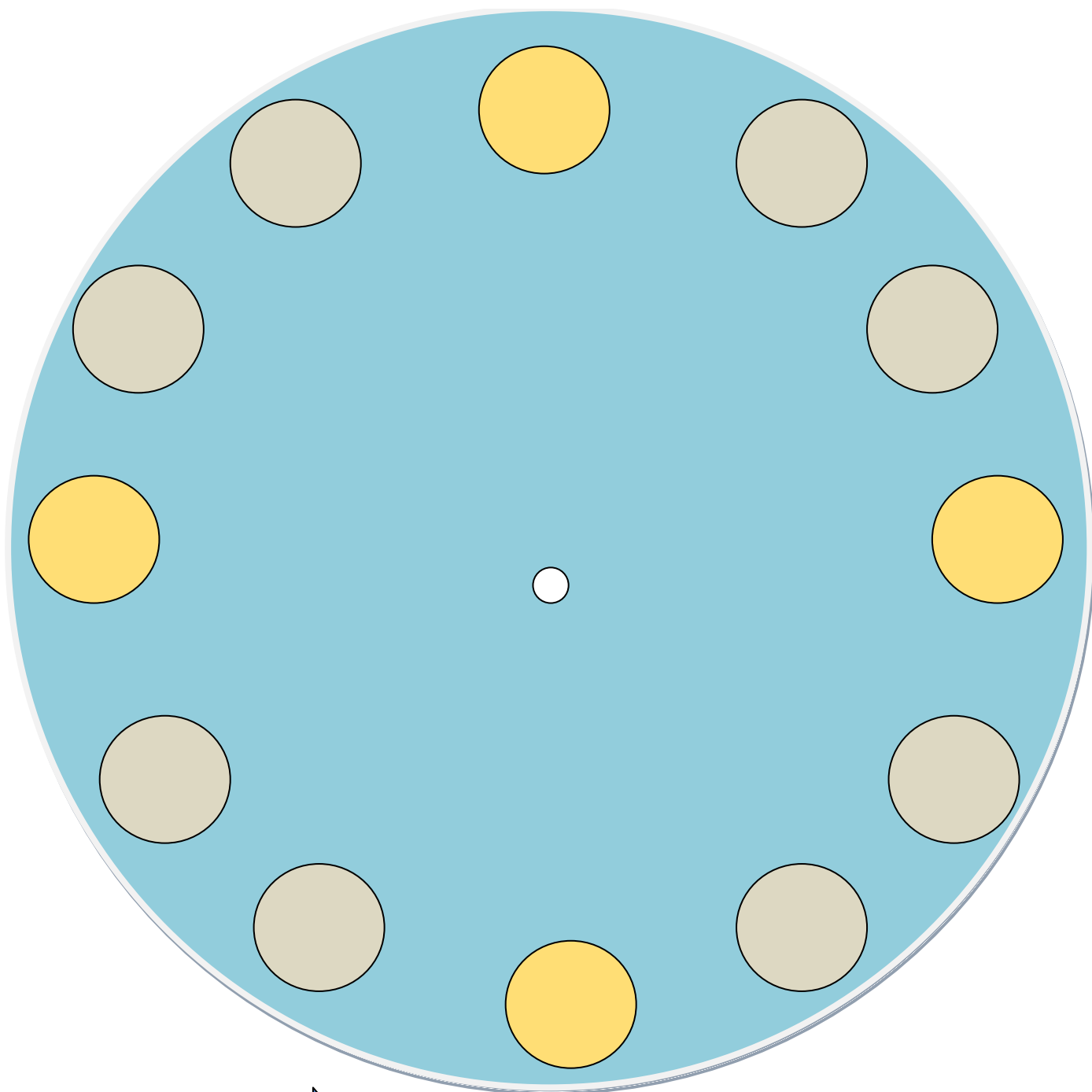


MINUTKY



ORLOJ

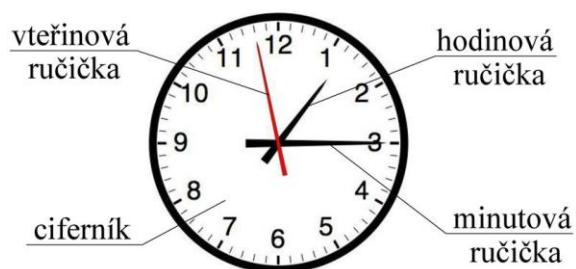
Doplň číslice na ciferníku hodin a nakresli malou a velkou ručičku.



MALÁ RUČIČKA UKAZUJE NA ČÍSLICI /HODINU. POSUNE SE JEN JEDNOU ZA HODINU.

VELKÁ RUČIČKA UKAZUJE MINUTY. ZA 1 HODINU OBĚHNE CELÝ KRUH.

UMÍŠ POPSAT HODINY?

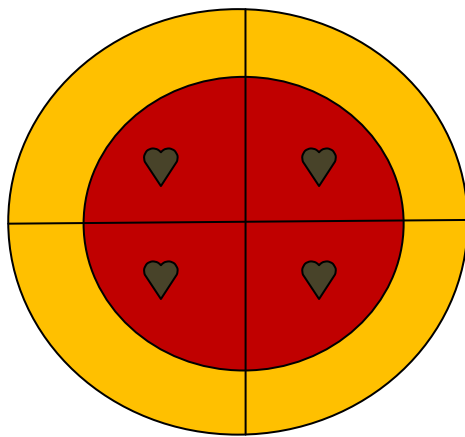


KOLIK JE HODIN?


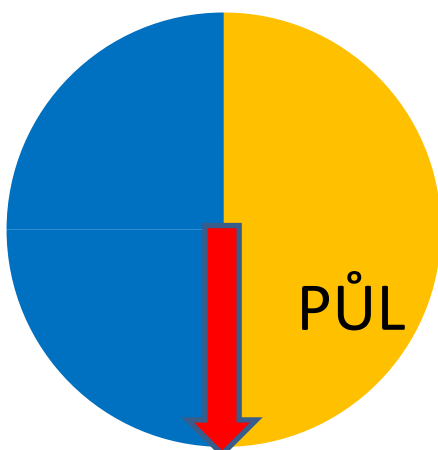

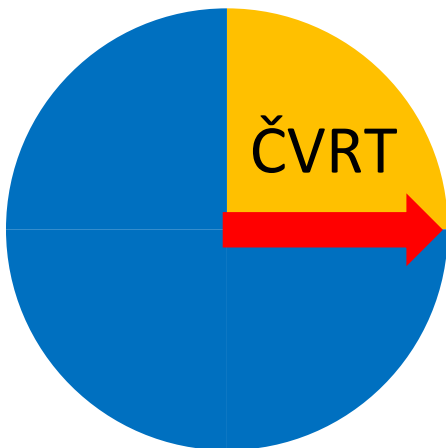
PAMATUJEŠ SI ŘÍKANKU?





ČTVRT, PŮL, TŘI ČTVRTĚ, CELÁ - UKAŽ MI, RUČIČKO, KOLIK TO DĚLÁ.

HODINA JE DOST DLOUHÁ, TAK SI JÍ NEJDŘÍVE ROZDĚLÍME NA DÍLY - ČTVRTINU, POLOVINU, TŘI ČTVRTINY A CELEK. TROCHU JAKO KDYŽ KRÁJÍME NA STEJNÉ DÍLY KOLÁČ Z PEKAŘSTVÍ.



ZKUS SPOJIT OBRÁZKY S DÍLY S OBRÁZKY HODIN:





DOMALUJ MINUTOVOU RUČIČKU PODLE ZADÁNÍ:




ČTVRT



CELÁ



TŘI ČTVRTĚ



CELÁ