

Milí osmáci, tento týden navštívíme **region Jihozápadní Asie**.

- v učebnici na str. 16 - 17 si pozorně přečtete text a prohlédněte obrázky
- přepište si, nebo si nalepte poznámky do sešitu
- vypracujte písemně otázky na str. 17 (žlutý rámeček)
- v pracovním sešitě doplň cvičení (viz Příloha)
- zhlédněte dokument <https://www.ceskatelevize.cz/porady/1185966822-na-cestech/210562260120030-na-cestech-po-dubaji/>

Do konce týdne mi vypracované úkoly pošlete ke kontrole 😊

JIHOZÁPADNÍ ASIE (učebnice str. 16 – 17)

19. listopadu

Poloha:

- region leží na poloostrově Malá Asie a na Arabském poloostrově

Přírodní podmínky:

- **subtropické podnebí** při Středozemním moři
- ostatní území mají suché tropické podnebí
- rozsáhlé **pouště, oázy** (palma datlová)
- **těžba ropy a zemního plynu v Perském zálivu**

Obyvatelstvo:

- nejpočetnější skupiny obyvatel: **Arabové, Íránci a Turci**
- nejrozšířenější náboženství: **islám**
- výjimku tvoří **Židé** žijící v Izraeli



státy jihozápadní Asie

STÁTÝ JIHOZÁPADNÍ ASIE - celkem 14 zemí (viz mapa)

- ✚ **TURECKO** (Ankara)
 - největším městem je přístav Istanbul
- ✚ **IZRAEL** (Jeruzalém)
 - vyspělý židovský stát
- ✚ **SAUDSKÁ ARÁBIE** (Rijád)
 - **Mekka** – poutní místo muslimů (rodiště zakladatele islámu proroka Muhammada)
- ✚ **SPOJENÉ ARABSKÉ EMIRÁTY** (Abú Zábí)
- ✚ **IRÁK** (Baghdád)
 - Mezopotámská nížina (řeky Eufrat a Tygris)
 - první státní útvary (Babylon a Sumer)
- ✚ **ÍRÁN** (Teherán) - dříve Persie (perské koberce)



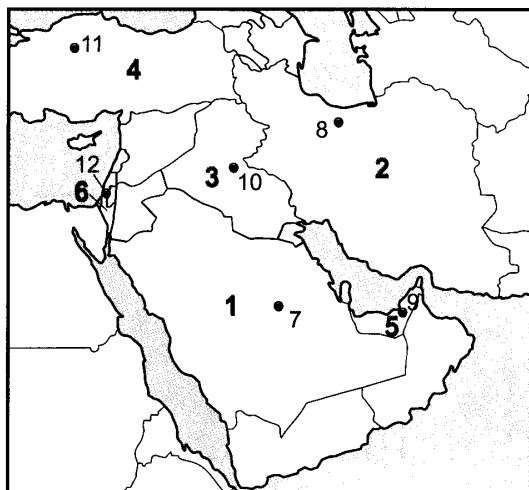
Jeruzalém – Skalní dóm na Chrámové hoře

6/ Jihozápadní Asie



Kryštof Harant z Polžic a Bezdrůžic
(1564–1621)

1. Napiš k číslům správné názvy států a hlavních měst jihozápadní Asie





Spoj čarou správné dvojice.

státy
hl. měst

1. _____ 7. _____
 2. _____ 8. _____
 3. _____ 9. _____
 4. _____ 10. _____
 5. _____ 11. _____
 6. _____ 12. _____

2. Vybarvi vlajky



3. Najdi ve čtyřsměrce názvy pěstovaných plodin a chovaných zvířat v Jihozápadní Asii. Vypiš je!

	A	B	C	D	E	F	G	H	I	J
1	C	E	A	N	L	V	A	B	E	J
2	E	D	M	P	Š	E	N	I	C	E
3	F	N	C	P	N	F	Í	K	Y	Č
4	Y	E	V	R	E	G	T	I	Č	M
5	O	P	O	M	E	R	A	N	Č	E
6	F	K	G	V	Í	E	B	E	Y	N
7	P	Y	E	R	N	P	Á	P	Š	C
8	O	V	C	E	E	Y	K	O	Z	Y

- J/1 _____
 B/5 _____
 G/4 _____
 F/3 _____
 F/4 _____
 H/1 _____
 D/2 _____
 A/8 _____
 G/8 _____

4. Vyhledej ve slovníčku pojmů v učebnici, význam slova Orient

5. Náboženství

Obyvatelé Jihozápadní Asie vyznávají především islám, někteří židovskou víru a křesťanství. Napiš, která náboženství představují tyto symboly:



6. Spoj čarou dvojice, které k sobě patří

MUSLIM	VELBLOUD
ROPA	MEKKA
OÁZA	PŘÍSTAV
POUŠŤ	TANKER
ISTANBUL	PALMA DATLOVÁ

7. Navrhni vzor perského koberce

