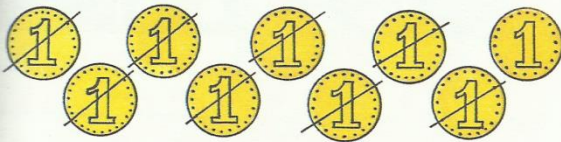


Numerické počítání můžeme procvičovat podle MATEMATICKÝCH PĚTIMINUTOVEK ALTER, díl I., sloupec 25–30

1 Maminka dala Kájovi 9 Kč. Kája koupil salám za 8 Kč. Kolik Kč mu zbylo?



Znázorni

Vypočítej

*Kájovi zbyla koruna.*

2 U domu stálo 9 aut. 5 aut odjelo. Kolik aut zůstalo u domu?




Znázorni

Vypočítej

*U domu zůstala auta.*

3 U lesa je 9 zvířátek. 6 zvířátek se polekalo a uteklo. Kolik zvířátek zůstalo?



Znázorni

Vypočítej

*Zůstala tam zvířátka.*

4 Vypočítejte společně.

2	2	2	2	2	2	1	0
+7	+2	+5	+3	+6	+4	+2	+2


5 Opíš a vypočítej.

9 - 4	6 - 3	8 - 3
9 - 6	9 - 9	6 + 2
8 - 7	4 + 5	3 + 6
9 - 8	9 - 3	9 - 7
8 - 8	8 + 1	9 - 1
9 - 0	9 - 6	3 - 2

6 Porovnej.

9 > 5	1 > 0	9 > 8
4 4	0 8	3 3
7 9	2 2	4 2
0 6	7 8	0 9
5 8	5 7	5 4
1 5	0 5	6 5

7 Kolik je to korun? Napiš.



8 Opíš a vypočítej.

9 - 3	5 + 4	7 - 3
7 - 4	6 + 2	9 - 1
8 - 6	4 + 1	8 - 7
9 - 5	3 + 6	9 - 7
9 - 8	7 + 2	7 - 7
8 - 4	2 + 5	9 - 6