



Sčítání v oboru čísel do 8



$$4 + 4 =$$

$$5 + 3 =$$

$$6 + 2 =$$

maluj kalichy (2 barvy)

1 Znáznorní a vypočítej.


$4 + 4 =$	_____
$2 + 6 =$	_____
$7 + 1 =$	_____
$5 + 3 =$	_____
$6 + 2 =$	_____
$3 + 5 =$	_____

dopln rozkladů

2 Opakovaně procvičuj.

8	7	6
$1 +$ _____	$6 +$ _____	$5 +$ _____
$3 +$ _____	$2 +$ _____	$1 +$ _____
$5 +$ _____	$3 +$ _____	$4 +$ _____
$4 +$ _____	$4 +$ _____	$2 +$ _____
$6 +$ _____	$5 +$ _____	$3 +$ _____

3 Na dvorku jsou ...




kresli papoušky (2 barvy)

Znáznorní

Vypočítej

Máme celkem _____

4 Kolik má Pavel míčků?



kresli míčky (2 barvy)

Znáznorní

Vypočítej

Pavel má _____ míčků.