

# MATEMATIKA

5.třída

Opakování a procvičování : **Jednotky času** ( učeb. str. 51-53 )

**Písemné sčítání a odčítání** ( učeb. str. 36-43 )

Geometrie : **Úsečka, měření úseček** (učeb. str.70 – 72)

Úkoly : Vyplňte pracovní listy a napište cvičení do sešitu


učeb. str.36/2 a 37/6 písemné sčítání

učeb. str. 38/1 a 2 (nahore) odčítání


Pracovní sešit – cvičení z geometrie do str. 24 – ta která nemáte hotová a kterým rozumíte.

**Úsečka je část přímky a má vždy dva krajní body.**

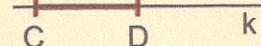
přímka  $k$



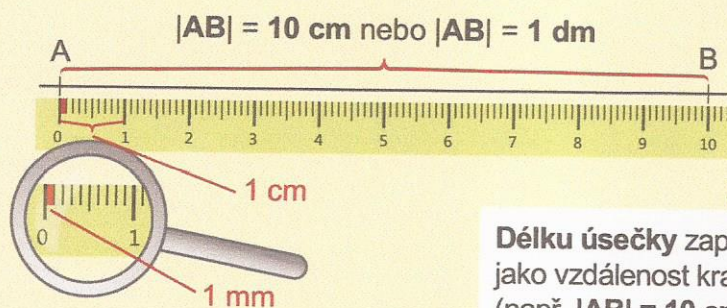
úsečka  $AB$



úsečka  $CD$

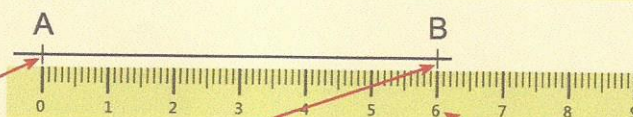


**Úsečky mohou být různě dlouhé. Délku úsečky můžeme měřit**  
např. v milimetrech (mm), centimetrech (cm) nebo decimetrech (dm).



Délku úsečky zapisujeme  
jako vzdálenost krajních bodů  
(např.  $|AB| = 10 \text{ cm}$ ).

## Jak měřit úsečky



1. Ke krajnímu bodu  $A$  přiložíme nulu (na pravítku).

2. Poloha bodu  $B$  ukazuje, kolik cm úsečka měří.

3. Na pravítku odečteme délku úsečky  $|AB| = 6 \text{ cm}$ .