



**1.Přepiš na papír nebo do sešitu a vypočítej.**

2. Milan nakreslil 3  a 9 .  
Nakreslete do sešitu, vypočítejte.

3. Kája koupil salát za 4 Kč a banány za 9 Kč.  
Kolik korun Kája zaplatil?

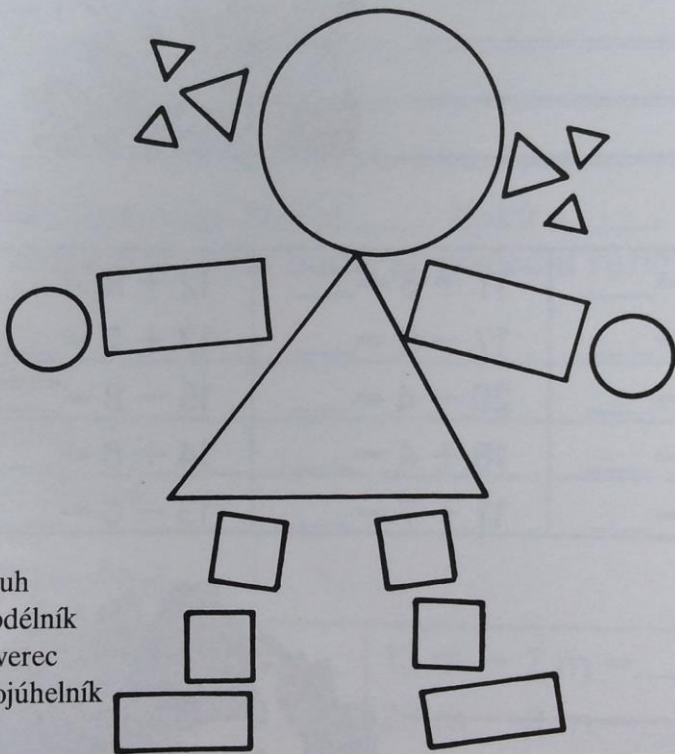
4.  $3 + 8$                        $5 + 9$                        $16 - 8$                        $12 - 3$   
 $4 + 7$                        $3 + 9$                        $11 - 5$                        $14 - 7$

5.  $6 + 7$                        $7 + 4$                        $16 - 7$                        $15 - 9$   
 $8 + 3$                        $5 + 8$                        $13 - 8$                        $14 - 5$   
 $9 + 4$                        $6 + 9$                        $12 - 4$                        $11 - 8$

**2. Správně urči, spočítej a zapiš na papír počet geometrických tvarů:**

**kruh, čtverec, trojúhelník, obdélník**

Poznáš geometrické tvary,  
ze kterých si Kačka sestavila panenku?



kruh  
obdélník  
čtverec  
trojúhelník

### 3. Opakujeme:

Přepiš na papír nebo tvého cvičného sešitu a vypočítej slovní úlohy. Než je vypočítáš, namaluj si k nim obrázek(knihy, ředkvičky):

- 1 Jirka má ve své knihovničce 18 knih. 3 knihy půjčil kamarádům.  
Kolik knih zůstalo Jirkovi v knihovničce?

Znázorni

Vypočítej

Napiš odpověď:



- 2 Jana utrhla 11 malých ředkviček a 6 ředkviček velkých.  
Kolik má Jana celkem ředkviček?


Znázorni

Vypočítej

Napiš odpověď:



- 3 10 prasátek zavří do ohrady.



Na dvorku byla růžová a černá prasátka. Kolik jich bylo na dvoře celkem?

Vypočítej.

