

Střední Amerika

1. Napiš podle mapy název největšího středoamerického státu

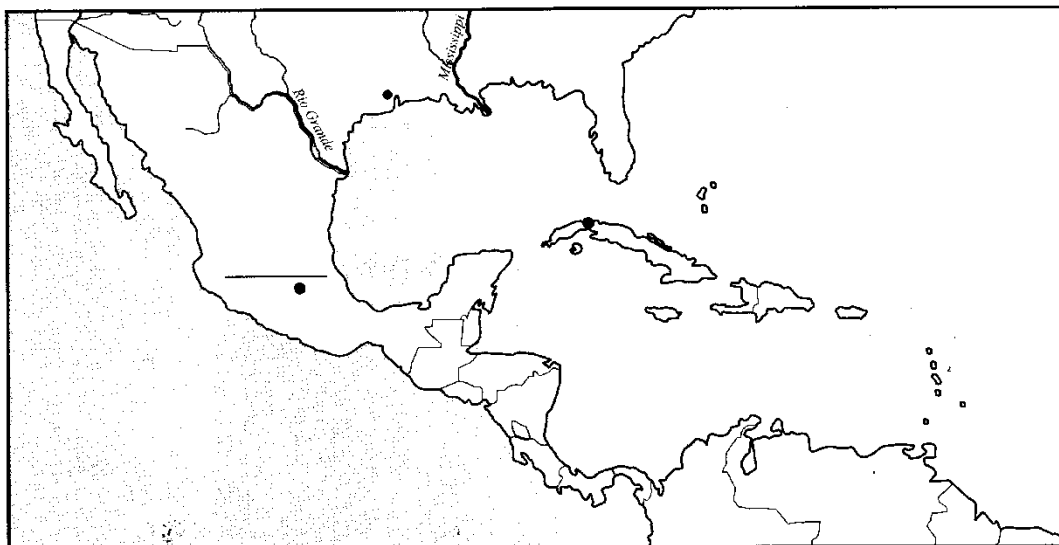
Podle přehledu vlajek vybarvi vlajku tohoto státu.



Kryštof Kolumbus
(1451–1506)
Kdo to byl?

2. Vyznač v mapě

modrou barvou řeku, která odděluje Spojené státy americké od Latinské Ameriky



3. Zapiš, jakým jazykem se mluví v Mexiku:.....

4. Pracuj s mapou – zakroužkuj správnou odpověď

Mexiko je hornatá země: ANO NE

V Mexiku převažují nížiny: ANO NE

5. Vyber každé druhé písmeno a zapiš jméno nejznámější sopky.

A P B O C P D O U C F A J T H É I P J E I T S L

6. Dopln do mapy Střední Ameriky jméno hlavního města Mexika

7. Napiš podle mapy jména 3 republik pevninské části Střední Ameriky

.....

8. Zapiš názvy oceánů, které spojuje Panamský průplav

.....

9. Barevně zakroužkuj název největšího ostrova Velkých Antil

Jamaika

Kuba

Portoriko

Hispaniola

10. Podtrhni správný název mořského proudu, který vzniká v Mexickém zálivu

Golfský proud

Labradorský proud

11. Podtrhni plodiny, které se pěstují ve Střední Americe

banánovník

cukrová řepa

cukrová třtina

švestky

tabák

12. Zakroužkuj jiný název oblasti Střední Ameriky

PACIFIC

KARIBIK

ATLANTIK

13. Rozhodni čím je oblast Střední Ameriky známá:

– výskytem četných bouří a hurikánů

ANO NE

– trvale klidným bezvětřným podnebím


ANO NE

ZEMĚPIS_ŘEŠENÍ_8. ROČNÍK

1. Vybarvi vlajku Kanady

Vlajka ti napoví, jak se Kanadě také říká.

Země ...JAVOROVÉHO LISTU.....



Giovanni Caboto
(cca 1450–1499)

Kdo to byl?

*mořeplavec,
který doplul k pobřeží SA*

2. Pracuj s mapou

V mapce na str. 26 vybarvi modrou barvou Velká jezera a řeku sv. Vavřince.
Doplň do mapy názvy měst: Montréal a Vancouver.


3. Napiš jména států, na jejichž území leží Niagarské vodopády

KANADA USA

4. Vylušti a zapiš, mezi kterými jezery se nacházejí Niagarské vodopády.

ERIJSKÉ JEZERO ERIJSKÉ!

ONTARIO JEZERO ONTARIO



5. Některá slova stejně vyslovujeme, ale mají jiný význam


Je pravda?

OTTAWA je řeka v Česku.

ano ne

OTAVA je hlavní město Kanady.

ano ne



6. Dopln

Studené mořské proudy v Atlantiku způsobují, že se utržené ledové kry dostávají až do blízkosti cest námořních lodí a ohrožují je. Jedna z největších katastrof se stala v roce 1912 lodi:

TITANIC

O této lodi se říkalo, že je nepotopitelná



7. Vypiš podle učebnice hlavní nerostné suroviny Kanady

URAN, ZOPA, ŽEHNÍ PLYN, UHLÍ

8. Správný výraz zakroužkuj

Kanada je světovou velmocí v produkci jednoho druhu obilí. Nejvíce se pěstuje:

žito

ječmen

pšenice

oves

kukuřice.

9. Podtrhni správné tvrzení

Jedním z nejkrásnějších období kanadského roku je indiánské léto. Kdy to je?

Na začátku léta

uprostřed léta

v pozdním podzimu?

10. Kanada dala světu sport, který je také oblíben v Česku.

Podtrhni správnou odpověď:

kopaná

házená

lední hokej.

11. Znáš některé české sportovce, kteří se v tomto sportu proslavili?



Zapiš jejich jména a příjmení:

JAROMÍR JÁGR, DOMINIK HAŠEK,

DAVID KREJČÍ, TOMAŠ PLEKANEC, DAVID PASTRŇÁK

Spojené státy americké – USA

1. Vybarvi vlajku USA



Jonassen Vitus Bering
(1680–1741)

Kdo to byl?

*Dánský mořeplavec, který
proplul mezi Asií a Amerikou
a dokázal tak, že bylo
kontinenty spolu souvislé.*

2. Pracuj s mapou

V mapce na str. 26

modrou barvou zvýrazni řeky USA: Colorado, Ohio a Yukon.

3. Správné výrazy podtrhni

Prérie jsou: pásma jehličnatých lesů

Na prériích se pásala stáda: jelenů srnců

oblasti bezlesých plání.

bizonů.

4. Dopln pismena a zapiš text

Součástí Spojených států amerických jsou i dva další členské státy, které leží mimo hlavní území USA.

Jsou to:

H A W A I

a

A L J A Š K A



5. Americké hospodářství je nejvýkonnější na světě. Napiš:

– tři nejdůležitější nerostné suroviny, které se těží v USA:

ropa, černé uhlí, železná ruda...

– alespoň tři hlavní průmyslová odvětví v USA:

automobilový, letecký, kosmický...

Firmy: společnosti GOOGLE, AMAZON, MICROSOFT, FACEBOOK, APPLE

6. Přřad' čísla měst do příslušné oblasti USA

západní pobřeží... 3, 6 střední části země... 2, 5 východní pobřeží... 1, 4

1. New York, 2. Chicago, 3. Los Angeles, 4 Washington 5. Detroit, 6. San Francisco

7. Spoj správné dvojice

Los Angeles	výroba automobilů
Washington	přístav v Mexickém zálivu a v kraji vznikl jazz
Chicago	velké průmyslové město
New York	hlavní město USA
New Orleans	největší město USA
Detroit	filmový průmysl



8. Napiš podle učebnice jméno národního parku v USA

YELLOWSTONE

9. Napiš jméno některého z amerických prezidentů

JOE BIDEN

Sídlí v Bílém domě. Podtrhni správný název tohoto sídla.

BUCKINGHAM

WHITE HOUSE

PENTAGON

KREML

