

Milí osmáci,

tento týden se budeme zabývat třemi regiony Asie – **Severní Asie (Rusko), Střední Asie a Zakavkazsko**. Ukažte si tyto regiony na mapě.

- v učebnici na str. 14 - 15 si pozorně přečtete text a prohlédněte obrázky
- přepište si, nebo si nalepte poznámky do sešitu
- vypracujte písemně otázky na str. 15 (žlutý rámeček)
- v pracovním sešitě doplňte cvičení na straně 10 – 11 (viz Příloha)

Do konce týdne mi vypracované úkoly pošlete ke kontrole ☺. Připomínám, že distanční výuka je povinná.

E-mail: Jana.Pecmanova@stitneho-cb.cz

ASIE (učebnice str. 14 - 15)

12. listopadu

SEVERNÍ ASIE

RUSKO – asijská část Sibiř a Dálný východ

Severní oblasti Ruska:

- **tundra** – oblast po většinu roku zamrzlá
- národy eskymáckého původu
- lov a pastevectví zvířat
- **tajga** - pásmo jehličnatých lesů, zásobárna dřeva
- nejhlubší jezero **Bajkal**
- řeky: **Ob, Jenisej, Angara, Lena**
- **Západosibiřská nížina** – bažinatá – těžba ropy a zemního plynu

Jižní oblasti Ruska:

- **hospodářsky významná**
- **stepi** – pěstování obilnin
- **těžba nerostných surovin** (černé a hnědé uhlí, železná ruda, barevné kovy, zlato a diamanty)
- nejdelší železnice světa **Transibiřská magistrála** (Moskva – Vladivostok)
- města: **Omsk, Novosibirsk, Krasnojarsk, Irkutsk, Chabarovsk**

STŘEDNÍ (CENTRÁLNÍ) ASIE

- **oblast pouští, hor a stepí na východ od Kaspického moře**
- častá zemětřesení
- pěstování **obilnin a bavlny; chov ovcí**
- **těžba ropy a zemního plynu**
- státy: **Kazachstán, Turkmenistán, Uzbekistán, Tádžikistán, Kyrgystán, Afghánistán**




státy severní Asie

trasa transsibiřské magistrály a BAM



státy centrální Asie




město Samarkand (Uzbekistán)



jezero Karakol v pohoří Pamír (Tádžikistán)

ZAKAVKAZKO

- oblast mezi Černým a Kaspickým mořem
- časté konflikty
- pěstování bavlníku, vinné révy, čajovníku a citrusů
- těžba ropy v Ázerbájdžánu
- státy: Arménie, Ázerbájdžán, Gruzie



Elbrus (5642 m n. m.) – nejvyšší hora Kavkazu (Rusko)



zakavkazské republiky

Doporučuji zhlédnout na youtube dokument Rusko z výšky 1. část

<https://www.youtube.com/watch?v=7JgKGWWT5Ic>

PŘÍLOHA



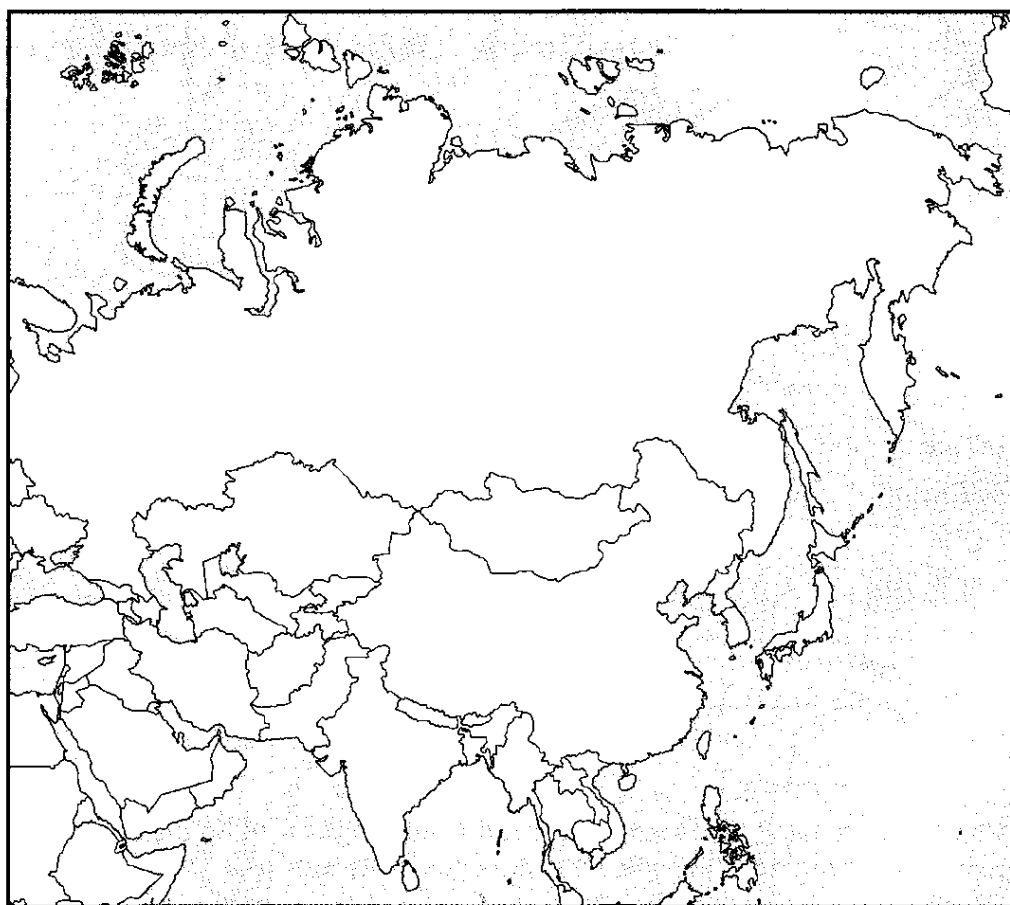
5/ Rusko, Střední Asie a Zakavkazsko



Jiří Hanzelka
(1920–2003)
a Miroslav Zikmund
(nar. 1919)
Kdo jsou?

1. Zapiš do mapy čísla těchto států

- | | |
|----------------|-----------------|
| 1. Rusko | 6. Turkmenistán |
| 2. Kazachstán | 7. Uzbekistán |
| 3. Gruzie | 8. Tádžikistán |
| 4. Arménie | 9. Kyrgyzstán |
| 5. Ázerbájdžán | |



2. Doplně názvy hlavních měst

MO _ K _ A

AS _ ANA

TB _ LI _ I

_ ER _ VA _

B _ K _

A _ CHAB _ T

_ AŠ _ ENT

DU _ ANB _

BI _ KEK



3. Nejdelší železnice na světě

Z Moskvy do Vladivostoku vede nejdelší železnice na světě. V řadě zakroužkuj každé druhé písmeno a dostaneš její název. Zapiš jej!

L T M R O A P N K S R S G I A B R I K Ř C S M K L Á
 B M V A O G U I R S P T C R P Á K L V A

Název trati: _____

4. Zvířata tajgy

Která z uvedených zvířat žijí v tajze? Napiš jejich název, ostatní obrázky přeškrtni!



5. Nejhlubší jezero na světě leží v Rusku na Sibiři

Název získáš vyluštěním křížovky. Zapiš ho!

O																			
	A			R															
		E	N	I															
		K			P	I			É	M				E					
			R	A	L			É						E	R	O			
		L		N															

Doplň názvy řek, jezera a moře.

6. Nerostné suroviny

Jiří Hanzelka a Miroslav Zikmund spotřebovali na cestách po Rusku a státech Střední Asie svou Tatrou mnoho benzínu. Napiš, z čeho se benzin vyrábí _____

Zapiš název další suroviny, která se těží v oblasti _____