

# Austrálie

I. K číslům 1 - 7 doplňte podle obrysové mapky správné názvy.

Vodstvo vybarvěte modrou barvou.

1 oceán \_\_\_\_\_

2 oceán \_\_\_\_\_

3 hlavní město \_\_\_\_\_

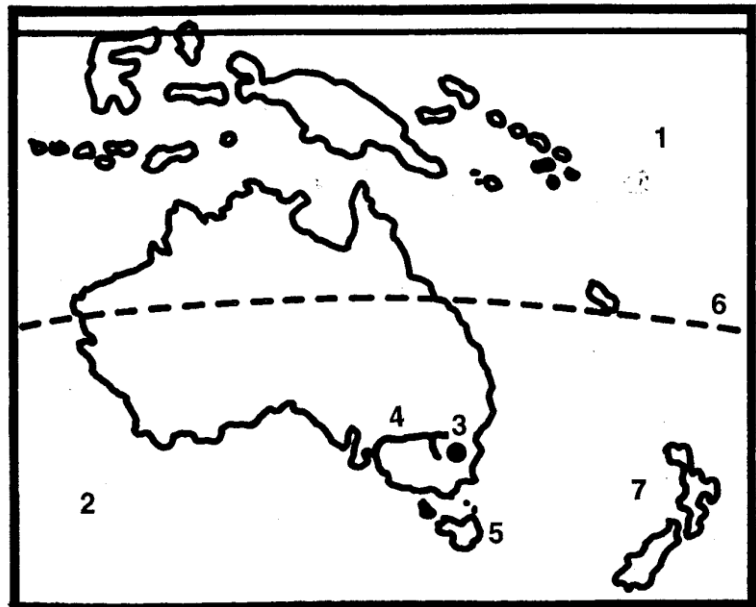
4 řeka \_\_\_\_\_

5 ostrov \_\_\_\_\_

6 obratník \_\_\_\_\_

7 ostrovní  
stát \_\_\_\_\_


Hnědým pruhem naznačte, kudy se táhne nejdelší pohoří Austrálie.



II. Poznáte je?

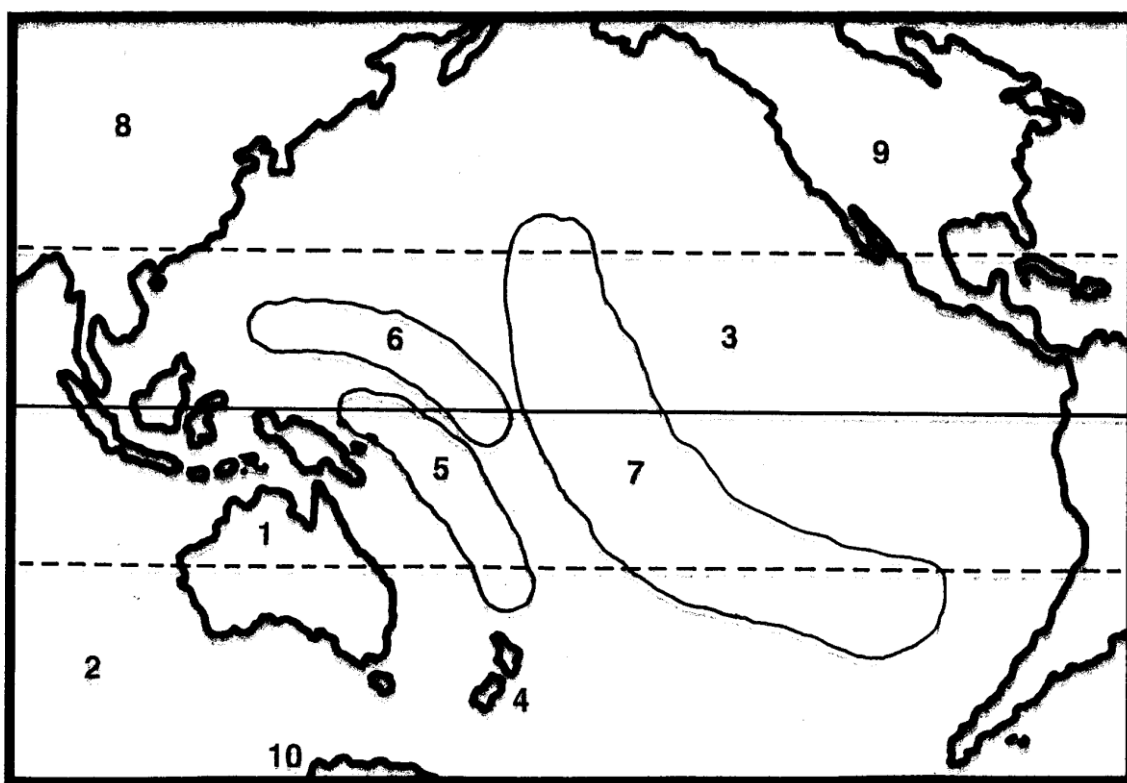
U názvů živočichů jsou zkomolená pojmenování nebo se písmenka rozsypala.

Napište pod obrázky správné názvy živočichů. Do tabulky je připište ke světadílům, ve kterých převážně žijí.



Jižní Amerika
Severní Amerika
Asie
Afrika
Austrálie

## ■ Australský svaz - Oceánie



1. Doplňte k číslům správné názvy. Použijte vhodné mapy.

1 světadíl \_\_\_\_\_

2 oceán \_\_\_\_\_

3 oceán \_\_\_\_\_

4 souostroví \_\_\_\_\_

Části Oceánie:

5 \_\_\_\_\_

6 \_\_\_\_\_

7 \_\_\_\_\_

Světadíly:

8 \_\_\_\_\_

9 \_\_\_\_\_

10 \_\_\_\_\_

II. V rámečku je ukryto osm zeměpisných názvů, týkajících se Austrálie a Oceánie. Vyhledejte je a označte světlou barvou.

P	O	U	P	O	L	Y	N	É	S	I	E	S
E	P	A	L	C	A	N	B	E	R	R	A	D
R	O	D	A	E	I	J	O	J	U	A	N	A
T	A	S	M	Á	N	I	E	P	B	N	O	S
H	L	Y	E	N	D	Y	S	O	K	A	N	T
O	R	D	M	I	K	R	O	N	É	S	I	E
S	T	O	U	E	Y	M	U	R	R	A	Y	P

III. Vyluštěte s použitím mapy. Tajenka: ostrovy Oceánie.

					L	F	Stát s hlavním městem Manilou (obráceně!)	
H	O			L	L		Hlavní město Havajského souostroví	
D		R					„Občasný“ přítok řeky Murray v Austrálii	
		S				E	Y	Australský přístav v Tasmanově moři
M								Hlavní město Filipín
		Z					D	Část názvu ostrovního státu jihovýchodně od Austrálie
								Největší světadíl
								Největší oceán
		P				H		Přístav na jihu západě Austrálie

