

Milí devátáci, tento týden navštívíme **region Jižní Asie**.

- v učebnici na str. 30 – 31 si pozorně přečtete text o Jižní Asii a prohlédněte si obrázky
- přepište si, nebo si nalepte poznámky do sešitu
- vypracujte otázky v učeb. na str. 31
- doplňte cvičení 1, 2/ str. 23 v pracovním sešitě + bonusová cvičení

- zhlédněte dokument o Váránásí <https://edu.ceskatelevize.cz/video/2437-varanasi-a-ganqa>

Do konce týdne mi pošlete vypracované úkoly ke kontrole 😊. E-mail: [Jana.Pecmanova@stitneho-cb.cz](mailto:Jana.Pecmanova@stitneho-cb.cz)

## JIŽNÍ ASIE

10. listopadu

### Poloha:

- se rozkládá na **poloostrově Přední Indie**

### Přírodní podmínky:

- pohoří: Hindukúš, Karákoram, **Himaláj**
- nížiny: **Indoganžská nížina**
- řeky: Indus, **Ganga**, Brahmaputra
- **teplé podnebí, monzunové deště** (záplavy)
- hlavní obživou je **zemědělství**
- nejdůležitější plodinou je **rýže**

### Obyvatelstvo:


- žije zde **více než miliarda lidí**
- v přelidněných oblastech trpí lidé chudobou a hladem (Bangladéš)
- náboženství: **hinduismus**, islám, buddhismus

### STÁTY JIŽNÍ ASIE (viz mapa)

#### INDIE

- hlavní město **Nové Dillí**
- **nejbohatší a rychle se rozvíjející stát** (i přes chudobu většiny obyvatel)
- **2. nejlidnatější země světa**
- těžba ropy, uhlí, železné rudy
- **výroba aut, počítačů, jaderných zbraní**
- **vlastní kosmický výzkum**
- **filmový průmysl Bombaj (Bollywood)**
- hlavní problém- **vysoký přirozený přírůstek**

Další státy: Pákistán, Bangladéš, Bhútán, Nepál, Srí Lanka, Maledivy

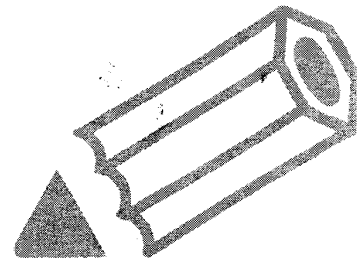


*Tádž Mahal*

# Jižní Asie

I. Vyluštěte za pomoci mapy (tajenka: Mount Everest je nazýván v tibetštině Ču-mu-lang-ma. Dozvíte se, co to znamená).

T	A				R	Poloostrov na severu Asie
	U	V				Malý stát v Perském zálivu
		S			P I	Travnaté asijské pláně
K		L				Přístav v ústí Gangy
	U			L		Nejvýchodnější pohoří Evropy
	O					„Ostrov“ v poušti
T	U					Nejzápadnější asijský stát
	S	U			R	Velký jihoasijský ostrov na rovníku
		M			O	Hirošima je japonské...



II. Podle obrysové mapky jižní Asie přiřpte k číslům správné údaje:

Poloostrov:

1 \_\_\_\_\_

Státy:

2 \_\_\_\_\_

3 \_\_\_\_\_

4 \_\_\_\_\_

Oceán:

5 \_\_\_\_\_

Pohoří:

6 \_\_\_\_\_

Světadíl:

7 \_\_\_\_\_

8 \_\_\_\_\_

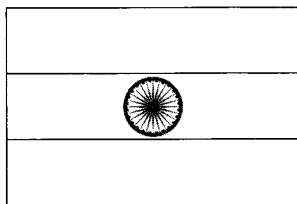


## Bonusová cvičení

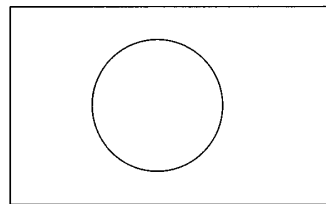
### 2. Vlajky států

Zjisti vlajky států  
v přehledu vlajek  
v učebnici a vybarvi je.

Indie



Bangladéš



### 3. Hlavní města

Doplň název hlavních měst těchto států

Indie                    D \_ \_ \_ \_ \_ Í

Pákistán              I \_ L Á \_ \_ \_ \_ \_ Á D

Nepál                    KÁT \_ M \_ \_ \_ \_ \_ Ú

Bangladéš             DH \_ \_ \_ \_ \_

### 4. Správná řešení

Z možností v závorce vyber a podtrhni tu správnou.

Na poloostrově Přední Indie leží (*Srí Lanka, Indie, Rusko*).

Jižní Asii prochází (*obratník Raka, obratník Kozorooha, severní polární kruh*).

V jižní Asii se pravidelně střídají (*jarní, letní, podzimní, zimní monzuny*).

Hlavním zdrojem obživy obyvatel jižní Asie je (*průmysl, zemědělství, služby*).

III. V obrazci jsou ukryty názvy

osmi domácích i divokých

zvířat a šesti produktů, kte-

ré se vyvázejí z jižní

Asie. Jejich názvy vy-

hledejte a slabě vy-

barvěte. Kolik si jich

zapamatujete?

Pomůcka: ž - rý - e,

j - a - č, na - ba - vl,

ta - ju, bá - ta - k, zo -

le - fa, vol - bu, g - ty - r,

sel - o, ro - so - no - žec,

kot - s, za - ko, n - sl - o, ce

- v - o.

Slova si sestavte!

