

Milí žáci,

tento týden nás čeká téma **Zemědělství České republiky**. Připomeneme si a zopakujeme hlavní druhy pěstovaných plodin a chovaných hospodářských zvířat.

- v učebnici na str. 12-13 si pozorně přečtete text a prohlédněte obrázky
- přepište si, nebo si nalepte zápis do sešitu
- vypracujte písemně otázky na str. 13 (žlutý rámeček)
- v pracovním sešitě na str. 7 – 8 doplňte jednotlivá cvičení

Do konce týdne mi pošlete vypracované úkoly ke kontrole 😊.

Zápis:

ZEMĚDĚLSTVÍ ČESKÉ REPUBLIKY

2. 11. 2020

Zemědělství zajišťuje **obživu obyvatelstva**.

Rostlinná výroba - pěstování hospodářských plodin (pole, vinice, sady, chmelnice)

Živočišná výroba - chov hospodářských zvířat (pastviny, louky)

Nížiny

- Polabí a moravské úvaly
- **teplé oblasti s úrodnou půdou** (černozemě a hnědozemě)
- pěstování **pšenice, kukuřice, slunečnice, cukrové řepy, vinné révy, chmele, ovoce a zeleniny**
- **chov prasat a drůbeže**

Pahorkatiny a vrchoviny

- méně úrodné půdy
- **pěstování obilí na krmení zvířat, brambor, lnu, řepky olejky**
- **chov prasat a skotu na maso a mléko**
- **chov ryb**

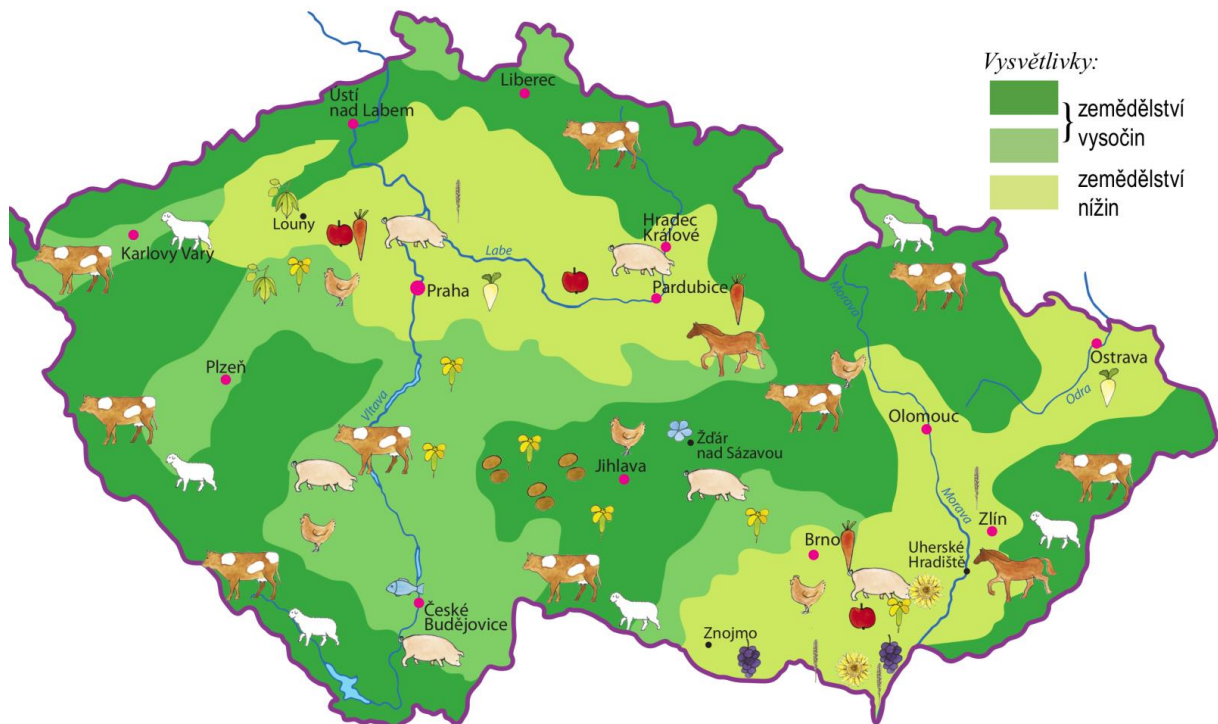
Podhorské oblasti

- **pěstování píce (jetel) a krmného obilí (oves)**
- **pastviny (chov skotu)**

Horské oblasti
















- **chladná a neúrodná oblast**
- **lesy**
- **pastviny (chov skotu a ovcí)**

Úkol: Vyhledej na mapě druhy pěstovaných plodin a chovaných hospodářských zvířat.



mapa zemědělství – druhy pěstovaných polních plodin (rostlinná výroba)
a chovaných hospodářských zvířat (živočišná výroba)

Vysvětlivky:

 pšenice	 slunečnice	 vinná réva	 chov skotu	 chov prasat
 řepka olejka	 brambory	 ovoce a zelenina	 chov koní	 chov drůbeže
 chmel	 len	 řepa cukrovka	 chov ovcí	 chov ryb