

Zapiš si do sešitu:

Národy na našem území

1. **Keltové**- 1. národ na našem území
kmen Bójové (podle něho vznikl název pro Čechy- Bohemia)
Keltové se lišili svým postavením a majetkem
(významnější byli bojovníci, knížata a druidové- soudci a lékaři)
2. **Germáni**
3. **Slované**- národ, který zde zůstal

Stěhování národů

- přesuny kmenů z místa na místo, nájezdy kočovných kmenů
- probíhalo od konce 4.století našeho letopočtu
- příchodem Slovanů na naše území končí Pravěk

Vypracuj přiložený pracovní list

Vybarvi přiložený obrázek

Opakuj si celé období pravěku

3. Na obrázku jsou dva druhy pravěkých bydlíšť. Poznáš keltské oppidum a také jaké nástroje se tam používaly? Spoj čarou.

keltské hradiště

osada prvních zemědělců

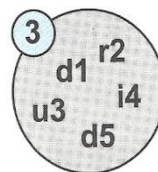
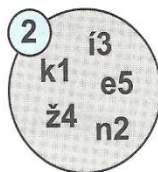
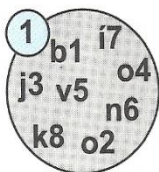


železný nástroj

kamenný nástroj



4. Vylušti šifry a zjistíš, kdo je kdo. Napiš čísla do obrázku nahoře.



5. Doplně poslední věty do knihy pojednávající o pravěku.

„Od konce 4. století n. l. probíhalo stěhování ná [] [] [] []. To způsobilo, že se u nás objevil národ Sl [] [] [] []. Tím pomalu končí období [] [] [] [] [] [] [] [].“

